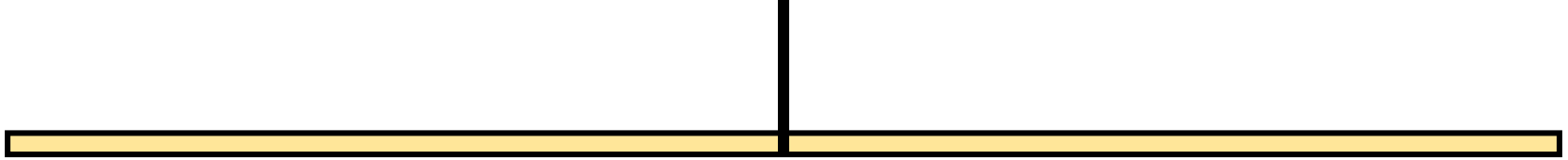


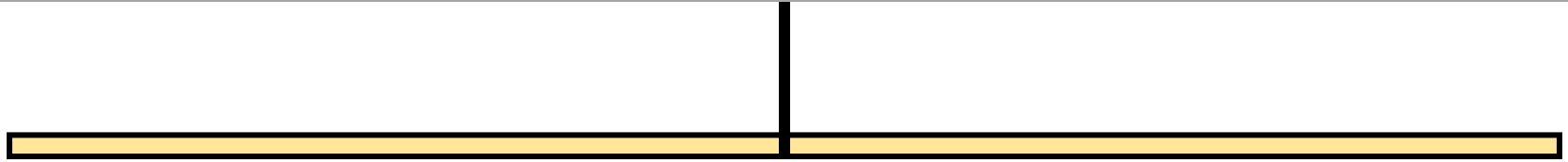
問.それぞれの重りの重さは、何gですか。

A:	g	B:	g
----	---	----	---



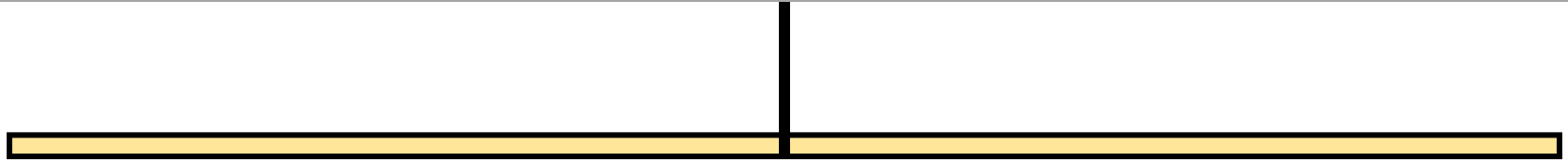
問.それぞれの重りの重さは、何gですか。

A:	g	B:	g	C:	g	D:	g
----	---	----	---	----	---	----	---



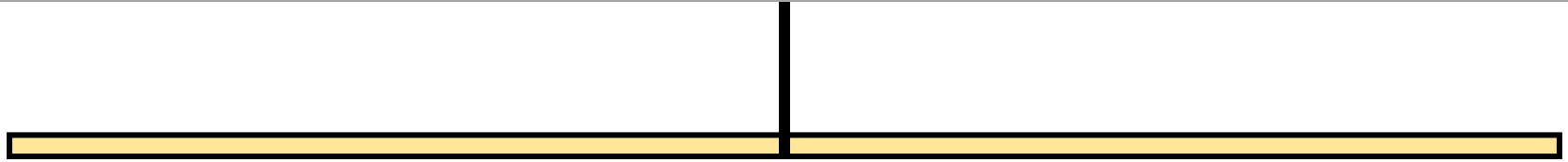
問.それぞれの重りの重さは、何gですか。

A:	g	B:	g	C:	g	D:	g	E:	g	F:	g	G:	g
----	---	----	---	----	---	----	---	----	---	----	---	----	---



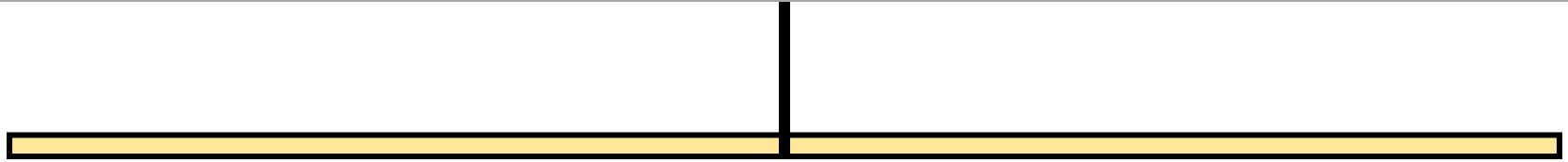
問.それぞれの重りの重さは、何gですか。

A:	g	B:	g
----	---	----	---



問.それぞれの重りの重さは、何gですか。

A:	g	B:	g	C:	g	D:	g
----	---	----	---	----	---	----	---



問.それぞれの重りの重さは、何gですか。

A:	g	B:	g	C:	g	D:	g	E:	g	F:	g	G:	g
----	---	----	---	----	---	----	---	----	---	----	---	----	---

天井

